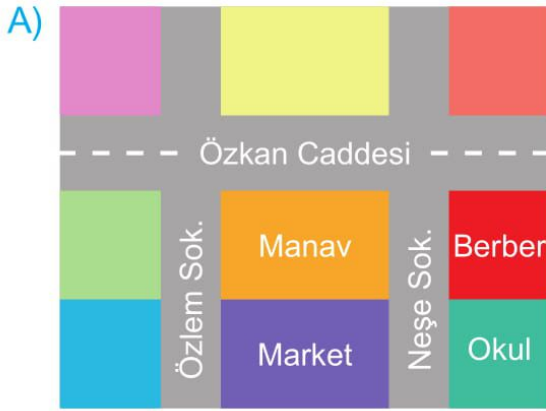


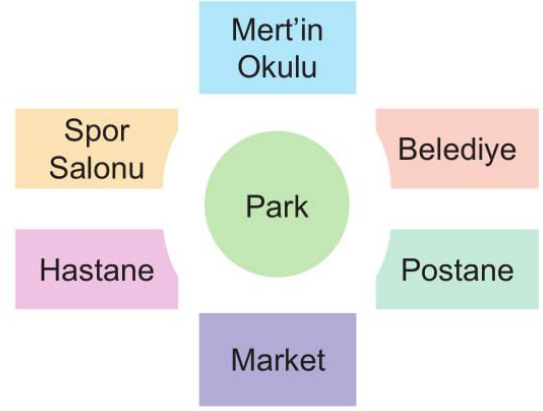
4. Aşağıdaki krokilerin hangisi Hale'nin okuluna aittir?



Benim okulum;  
Özkan Caddesi,  
Özlem Sokakta,  
marketin karşısında,  
berberin  
yanındadır.



5.



Mert okulunu tanıtmak için aşağıdaki ifadelerden hangisini kullanmalıdır?

- A) Okulumun yanında hastane vardır.  
B) Market okulumun karşısındadır.  
C) Okulum parkın karşısındadır.

6.




1	2	3
CENGİZ SOKAK		
6	5	4

Cengiz Sokak'ta yer alan kurum ve kuruluşlarla ilgili aşağıdakiler biliyor:

- Banka, park ve eczanenin arasındadır.
- Atatürk İlkokulu ve parkın giriş kapıları karşı karşıyadır.
- Eczane 1 numaralı bölgede yer almaktadır.

Yukarıda verilen bilgilere göre Atatürk İlkokulu kaç numaralı alanda yer almaktadır?

- A) 3 veya 4      B) 4      C) 6

Okuldan gelince hep oyun oynarım.	
Saatlerce çizgi film izlerim.	
Ödevlerimi düzenli yaparım.	

**Yukarıdaki tabloda hangi çiçek başarılı bir öğrenciyi temsil eder?**

- A)  B)  C) 

**6. Aşağıdakilerden hangisi başarılı bir öğrencinin özelliklerindedir?**

- A) Geç yatar ve geç uyanır.  
B) Planlı ve düzenli yaşar.  
C) Kitap okumayı sevmez.

- 7.**
- Okul kıyafetlerimi çıkarırım.
  - Yemeğimi yerim.
  - Ödevlerimi yaparım.



Hülya

Hülya günlük işlerini sıraya koymuştur.

**Buna göre Hülya, bu işlerini nerede yapar?**

- A) Sınıfta B) Okulda  
C) Evde

**8.**



**Yukarıda sembolleri verilen uygulamalarla ilgili hangisi söylenebilir?**

- A) Hayatımızı kolaylaştıran uygulamalardır. Sık sık kullanmalıyız.  
B) Sosyal medyaya çok zaman ayırmadan günümüzü planlamalıyız.  
C) Bu uygulamalara çok zaman ayırmak daha sosyal olmamızı sağlar.

**9.** Aşağıdaki tabloda Harun'un bir günde yaptıkları ve süreleri verilmiştir.

ETKİNLİK	SÜRE
Uyku	10 saat
Okul	6 saat
Ders çalışma	1 saat
Kitap okuma	1 saat
Yemek	1 saat
Bilgisayar	4 saat
Aile ile vakit geçirme	1 saat

**Yukarıdaki tabloya göre Harun'un bir günü için aşağıdakilerden hangisini söylememiz doğru olmaz?**

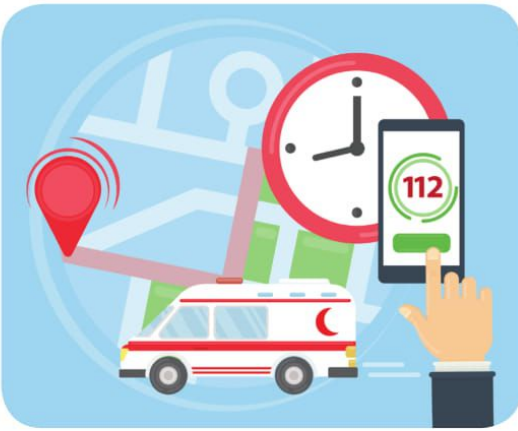
- A) Harun bir gününü çok doğru planlamıştır.  
B) Harun'un bilgisayara ayırdığı zaman çok fazladır.  
C) Harun, ailesiyle vakit geçirmeye önem verdiği için günlük planına eklemiştir.

5. Bir çocuğun zorla çalıştırıldığını gören Jale Hanım, bunun yanlış olduğunu düşünüyor ve ihbarda bulunmak istiyor.

**Jale Hanım hangi numarayı armalıdır?**



6.



**Verilen görselden hareketle hangi seçenekteki ifade doğrudur?**

- A) Acil numaraları arayıp asılsız ihbarda bulunmak heyecanlı olur.
- B) Acil numaraları gereksiz yere meşgul etmemek gerekir.
- C) Acil numaraları arada sırada arayıp hal hatır sormak gerekir.

7.



- Polis imdat, buyurun.
- Çatımızdaki su borusuna kedi sıkışmış, kurtarabilir misiniz?
- Efendim, sizi başka bir telefona aktarıyorum. Size oradan yardımcı olabilirler.



- Hızır acil servis, buyurun.
- Efendim, engelli bir vatandaşım. Evimden çıkamıyorum; çünkü kapımın önüne bir araba park etmiş.
- Siz iyi misiniz efendim? Sağlığınızda bir sorun yoksa sizi başka bir telefona aktarıyorum. Size oradan yardımcı olabilirler.



- Alo itfaiye, buyurun.
- Efendim, küçük bir kaza oldu. yaralılardan birinin başı dönüyor.
- Araçlarda sıkışan var mı efendim. Eğer yoksa sizi başka bir telefona aktarıyorum. Size oradan yardımcı olabilirler.

**Yukarıdaki konuşmalara göre telefonların aktarılması hangi seçenekte doğru verilmiştir?**

