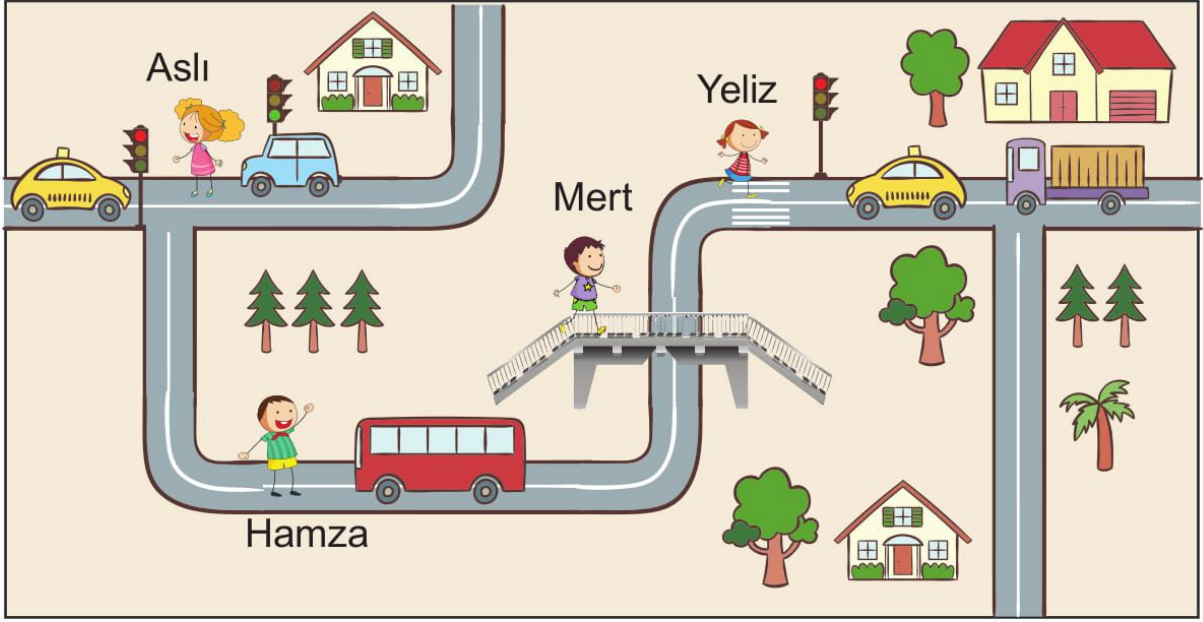


1.

Karşıdan karşıya geçerken her zaman **en güvenli** yerleri kullanmalıyız. **Yaya geçidi, üst geçit, trafik ışığı bulunan yerler ve trafik polisinin bulunduğu yerler** karşıdan karşıya geçmek için her zaman daha güvenlidir.



Resimde karşıdan karşıya geçen öğrencilerden hangileri güvenli yolları tercih etmiştir?

A) Aslı - Hamza

B) Aslı - Mert

C) Yeliz - Mert

2.

Yaya olarak **kaldırımları** kullanmalıyız. Kaldırımları kullanırken dikkatli olmalı, kaldırımda koşmamalı ve oynamamalıyız. Kaldırımın trafiğe uzak tarafından yürümeliyiz.

Aşağıdaki öğrencilerden hangisi ya da hangileri kaldırımda güvenlik kurallarına uymaktadır?

A)



B)



C)



1.

Tuvalet; okul, sınıf, bahçe gibi ortak kullanım alanlarındandır. Tuvalet temizliği, sağlığımız açısından çok önemlidir. Tuvaletten önce ve sonra ellerimizi yıkamalı, tuvaleti bulmak istediğimiz gibi temiz bırakmalıyız.

Verilen görsellere göre, hangi öğrencinin davranışı **yanlıştır**?

A)



B)



C)



2.

Ders başlamadan önce, teneffüs saatinde tuvalet ihtiyacımızı gidermeliyiz. Derste, tuvalet ihtiyacımız gelirse, öğretmenimizden izin istemeliyiz.



Verilen görselde, sınıf ortamındaki öğrencilerden hangisinin davranışı doğrudur?

A) Ali

B) Ahmet

C) Mehmet

2. Ağaçların çok çeşitleri vardır. Elma, erik, portakal, muz gibi ağaçlar **meyve ağaçlarıdır**. Ayrıca çam, meşe, çınar, kavak, söğüt gibi meyvesi olmayan ağaçlar da vardır.



1



2



3




4

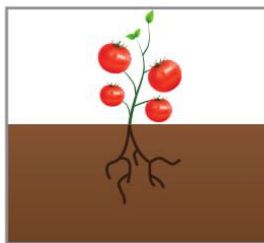
Yukarıdakilerden hangileri bahçe bitkisi, hangileri ağaçtır?

	Bahçe Bitkisi	Ağaç
A)	1 - 2	3 - 4
B)	1 - 3	2 - 4
C)	2 - 3	1 - 4

3. Bitkilerin tohumu toprağa ekilir ve sulanır. Tohum filizlenir ve yaprakları çıkar. Zamanla büyür, çiçek açar. Çiçekler dökülür, ürünler çıkar ve olgunlaşır. Olgunlaşan ürünler toplanır. Ürünler toplandıktan sonra bitki yapraklarını döker.



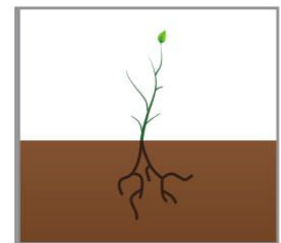
1



2



3



4

Yukarıda karışık olarak verilen bitkinin yetiştirme evrelerinin doğru sıralanışı hangisidir?

- A) 1, 3, 2, 4                      B) 3, 1, 4, 2                      C) 2, 4, 1, 3